

ESKİŞEHİR – TEPEBAŞI
CEMAL MÜMTAZ SOSYAL BİLİMLER LİSESİ
11.SINIFLAR SOSYAL BİLİM ÇALIŞMALARI DERSİ
1.DÖNEM ÖĞRENCİ ÇALIŞMA FASİKÜLÜ

1)İlk kültür merkezlerinin adlarını yazınız.

Çin Medeniyeti, Mezopotamya Medeniyetleri, Mısır Medeniyeti, Hint medeniyetleri bunlara örnektir.

2)Medeniyetlerin ilk kurulduğu alanlardan birisinin Akdeniz kıyıları olmasının nedenlerini yazınız.

Akdeniz kıyıları, medeniyetlerin ilk kurulduğu alanlardan biridir. Tarım alanlarının az olması, akarsuların varlığı, kıyılarında liman ada ve yarımadaların bulunması bu bölgede İyonya, Lidya, Yunan, Fenike ve Roma gibi birbirinden farklı medeniyetlerin kurulmasına neden olmuştur.

3)Anadolu uygarlıklarının adlarını ve başkentlerini yazınız.

Hititler, Frigyalılar, Lidyalılar, İyonyalılar, Urartular, Anadolu’da kurulmuş uygarlıklardır.

4)Kültürü oluşturan somut unsurları yazınız.

Coğrafi konum, iklim, yer şekilleri, su özellikleri, toprak özellikleri simgesel değerler **somut unsurlardır**. Dil, din ve inançlar, gelenek ve görenekler, ahlak kuralları, hukuk kuralları, siyasal örgütlenme, düşünce yapısı, komşu kültürler ise **soyut (manevi)** unsurlardır.

5)Kültürün özelliklerini yazınız.

Öğrenilebilir olması, Toplumsal olması, Aktarılabılır olması, Değişebilir olması, Sürekli olması, Bütünleştirici olması, İhtiyaçları giderici olması, Belli kurallarının olması

6)Türk Kültürünün simgelerini yazınız.

Geleneksel Türk evi, Türk kahvesi, halı, ebru, lale, at

7)Türk Kültürünün genel özelliklerini yazınız.

Çok **köklü** ve eskidir.

Coğrafi özelliklerinden dolayı **hem göçebe hem yerleşik** özellikler taşır.

Bulunduğu bölgenin coğrafi özelliklerinden dolayı **tarım ve hayvancılık** çok önemlidir.

İlk ortaya çıktığı bölgenin **coğrafi konumuna** ve denizden uzak olmasına bağlı olarak **karasallık** etkisi daha fazladır.

Coğrafi konumu ve **köklü geçmişi** nedeniyle insan sevgisini ve **dünya barışını** benimser.

Coğrafi konumu nedeniyle birçok farklı kültürden etkilenmiş ve o kültürleri etkilemiştir.

8)Türk Kültürünü Etkileyen Faktörleri yazınız.

Komşu medeniyetler, Bulunduğu coğrafi konum, Yoğun olarak yapılan ekonomik faaliyetler (tarım ve hayvancılık), Türklerin kendine has karakter özellikleri

Göçebe ve yerleşik yaşam, Din ve inanışlar (İslamiyet ve öncesi)

Türk göçleri, İklim şartları.

9)Türk Kültürünün Yaşadığı Bağımsız Türk Devletlerinin adlarını yazınız.

**Türkiye Cumhuriyeti, Kuzey Kıbrıs Türk Cumhuriyeti, Azerbaycan, Türkmenistan, Özbekistan
Kazakistan, Kırgızistan**

10)Günlük hayatta kültürel davranışlara örnekler veriniz.

Başparmağı havaya kaldırmak Afganistan ve Irak'ta küfür anlamı taşır.

Sıraya kaynak yapmak.

**Amerika'ya yeni gelmiş Latin Amerikalı göçmenler hastalandıklarında öncelikle doktora değil
botanicaya giderler.**

11) İnsanların davranışlarını ve tercihlerini etkileyen öğeler sizce neler olabilir?

12) Kültürel tutum ve tercihler toplumdan topluma neden farklılık göstermektedir?

13) Türkiye'nin kültürel çeşitliliğine örnekler veriniz.

14) Sosyalleşme Unsurları nelerdir? Yazınız.

Aile, Eğitim, Din, Hukuk, Siyaset, Ekonomi, Akran Grupları, Kitle İletişim Araçları.

15)Kültürün üretim ve tüketim üzerine etkileri neler olabilir? Tartışınız.

16) Kitle iletişim araçlarının üretim ve tüketim konusundaki etkilerine örnekler veriniz.

17) Küreselleşme, toplumların tüketici davranışları üzerinde neleri etkilemektedir?

18) Kültürel farklılıkların tüketici tercihlerine olan etkisini tartışınız.

Japonlar mümkün olan en taze gıdayı tüketmeye aşırı düşkündür.

**Japon tüketicisi denizaşırı ülkelerden getirilmiş ve karantinada tutulmuş bir aylık bir gıda maddesine karşı
önyargılıdır. Nedeni taze olmamasıdır.**

Japonya'da dört ve dördün katları uğursuz olarak görüldüğünden pek çok ürün beşli gruplar halinde satılır.

Türkiye de kadınlar Fransa'da ise erkekler yemek pişirmeye düşkündür.

**Fransız erkeği kozmetik ve güzellik ürünlerini Fransız kadından neredeyse iki kat fazla kullanır. Alman ve
Fransızlar, İtalyanlardan daha fazla spagetti tüketirler.**

Tanzanya'da anneler, erkek çocuklarına saçsız olmasın diye yumurta yedirmezler.

19) Ülkemizin dünya pazarında rekabet edebilmesi için nelere dikkat etmesi gerekmektedir?

Markalaşmaya önem verilmelidir.

20) Çocuklar reklamlardan nasıl etkilenir?

21) Ürün ve hizmetlerin tanıtılması ve satışının arttırılmasında çocukların rolü önemli midir?

22) Çocukların televizyonda gördükleri, ilgilerini çeken her ürüne sahip olmak istemesi reklamcılarının amacına ulaştığını gösterir mi?

23) Dünya’da ve Türkiye’de çocukları reklamların zararlı etkilerinden korumak için neler yapılmaktadır? Bu konuda önerileriniz nelerdir?

24) Beslenme kültürüne toplumlardan örnekler veriniz.

Kaplumbağa çorbası bir Fransız için ziyafetin görkemli girişini oluştururken, bir Türk bunu soğuk bir şaka olarak algılar. Domuz pirzolasını zevkle yiyen bir Alman karşısında Türk’ün ağzı sulanmaz, hatta yüzü ekşir. Kurbağa bacağını iştahla ısırarak bir İtalyan’a bir Türk şaşkınlıkla karışık tiksime tepkisi gösterebilir.

25) Reklamların farklı ülkelerdeki etkilerine örnekler veriniz.

A- Bir bebek firması Japon pazarına sürdüğü pudrasını, ancak orijinal kutusunu değiştirerek başarıya ulaştırabilmiştir. Japon anneler plastik kutuda üstten serperek dökülen pudranın etrafa saçılacağından ve özellikle tertemiz küçük evlerini kirleteceğinden korkarak bu ürünü önce satın almamışlar, daha sonra firma ürünü yassı kutulara koyduğunda ürünün pazardaki satış grafiği yükselmiştir.

B- Bir şampuan firması Amerika’da çok başarılı olan Every Night adlı şampuanını İsviçre pazarına sürdüğünde büyük bir başarısızlıkla karşılaşmıştır. Uzmanlar başarısızlığın nedeninin iki toplum arasındaki kültürel farklılıklardan kaynaklandığı sonucuna ulaşmışlardır. Yapılan araştırmalara göre, Amerikalı kadınlar saçlarını daha çok akşamları yıkarken, İsveçli kadınlar ise tam tersine sabah saatlerini tercih etmekteydiler. Bu gerçeği gören firma uzmanları hemen ürünün adını Every Morning olarak değiştirmiş ve bu değişiklikten hemen sonra şirketin satışlarında hızlı bir artış görülmüştür.

C- Amerikan pazarında büyük bir başarı elde eden bir otomobil firmasının “Nova” marka otomobili Porto Rico pazarında başarısızlığa uğramıştır. Şirketin yapmış olduğu araştırma neticesinde “No va” isminin İspanyolca telaffuz edildiğinde “gitmez, yürümez” anlamına geldiği anlaşılmış ve ismi “Caribe” olarak değiştirilmiştir.

26) Öğrencilerden televizyon reklamlarının çocuklar üzerindeki olumlu ve olumsuz etkilerini örnekteki gibi boşluklara yazmaları ve sınıfta okumaları istenir.

11.SINIFLAR SOSYAL BİLİM ÇALIŞMALARI DERSİ İKİNCİ YAZILI SINAV ÖNCESİ ÖĞRENCİ ÇALIŞMA YAPRAĞI

1) Aşağıdakilerden hangisi kültürü oluşturan **maddi** unsurlardan biri **değildir**?

- A) Coğrafi Konum
- B) Su özellikleri
- C) İklim özellikler
- D) Örf ve adetler
- E) Simgeler

2) Aşağıdakilerden hangisi kültürel coğrafyanın konusu **değildir**?

- A) Ülkelerde yapılan ekonomik faaliyetler
- B) Ülkelerin mimarisi
- C) Bölgelerin yeme-içme alışkanlıkları
- D) Ülkelerin gelenekleri
- E) Milletlerin dinleri ve dilleri

3) Göçebe hayat tarzı yaşayan Türklerde, çadır, at, halı ve kilim kültür simgelerini oluştururken; Türklerin yerleşik hayata geçmesiyle bu simgeler yerlerini köprü, çeşme, kervansaray, cami, medrese gibi yapılara bırakmıştır.

Buna göre, **kültür simgelerinde** meydana gelen bu değişiklik, kültürle ilgili aşağıda verilen özelliklerden hangisi ile açıklanabilir?

- A) Sürekli olması
- B) Öğrenilerek gelecek nesillere aktarılması
- C) Toplumsal şartlar ve ihtiyaçlar değiştikçe değişime uğraması
- D) Bütünleştirici olması
- E) İklim koşullarından etkilenmesi

4) Türk kültürü, aşağıdaki kültürlerin hangisinin etkisinde **kalmamıştır**?

- A) İslam kültürü
- B) İran-Pers kültürü
- C) Yunan kültürü
- D) Çin kültürü
- E) İskandinav kültürü

5) Orta Asya'da yaşayan Türklerin kullandığı **kıl çadır ve kilim dokumacılığı** simgelerinin Anadolu'da görülmesi kültürün hangi özelliği ile ilgilidir?

- A) Bütünleştirici olması
- B) Değişken olması

- C) Aktarılabilir olması
- D) Yazılı kurallarının bulunması
- E) İhtiyaçları giderici olması

6) Aşağıdakilerden hangisi Türk kültürünün genel özelliklerinden **değildir**?

- A) Çok köklü ve eski olması
- B) Tarım dışı faaliyetlerin egemen olması
- C) Geniş coğrafyaya yayılması
- D) İnsan sevgisini temel alması
- E) Diğer kültürleri etkilemesi

7) Orta Asya Türk kültüründe aşağıdakilerden hangisinin etkisi **görülmez**?

- A) Karasallık
- B) Hayvancılık
- C) Balıkçılık
- D) At yetiştiriciliği
- E) Göçebelik

8) Dünya ticaretinin büyük kısmının Kuzey Amerika, Batı Avrupa, Doğu ve Güneydoğu Asya'da yoğunlaşmasının nedenleri arasında aşağıdakilerden hangisi **en az etkiye** sahiptir?

- A) Büyük pazarların olması
- B) Yatırımların fazla olması
- C) Üretimin yoğun olması
- D) Nüfus miktarının fazla olması
- E) Tarım ürünü çeşitliliğinin fazla olması

9) Aşağıdakilerden hangisi dünyada balıkçılığın yaygın olarak üretildiği alanlar arasında yer **almaz**?

- A) Akdeniz
- B) Kanada'nın doğusu
- C) Güney Amerika'nın batısı
- D) Batı Avrupa kıyıları
- E) Japonya çevresi

10) Aşağıdakilerden hangisi insanları turizm faaliyetine yöneltten faktörler arasında **gösterilemez**?

- A) Gezme-görme isteği
- B) Din ve inançlar
- C) İş toplantılarına katılma
- D) İş bulmak için göç etme
- E) Dost-akraba ziyaretleri

11) Aşağıdakilerden hangisi küresel ticareti diğerlerine göre **daha az** etkiler?

- A) Ülkelerin gelişmişlik düzeylerinin farklı olması
- B) Hammadde kaynaklarının dünya genelinde dengesiz dağılımı
- C) Yetiştirilen tarım ürünlerinin ülkelere göre farklı olması
- D) Nüfusun dünya genelinde düzensiz dağılımı
- E) Ülkeler arasında meydana gelen göçler

12) Aşağıdakilerden hangisi Türk kültürüne ait simgelerden **değildir**?

- A) At
- B) Lâle
- C) Ebru sanatı
- D) Heykel
- E) Cirit oyunu

13) Aşağıdakilerden hangisi turizmin ekonomik etkileri arasında **yer almaz**?

- A) Bazı ülkelerin dış ticaret açığının kapatılmasını sağlar.
- B) Yeni iş olanakları ortaya çıkar.
- C) Ulaşım ve haberleşme hizmetleri gelişir.
- D) Alt yapı hizmetleri gelişir.
- E) Evrensel barışın doğmasına yardımcı olur.

14) Turist çeken yerlerin özellikleri göz önüne alındığında aşağıdaki merkezlerden hangisi farklı bir nedene bağlı olarak turist çeker?

- A) Londra
- B) Mekke
- C) Kahire
- D) Madrid
- E) Atina

15) Aşağıdakilerden hangisi turizmin yapıldığı bir bölgede çevreyi koruma amacı ile alınacak önlemlerden **değildir**?

- A) Çevre kirlenmemeli
- B) Doğal kaynaklar tahrip edilmemeli
- C) Turistik tesisler yapılmamalı
- D) Doğal çevrenin görüntüsü bozulmamalı
- E) İnsanlar bilinçlendirilmeli

16) Aşağıdakilerden hangisi bir bölgede ticaretin gelişmesini **en az** etkiler?

- A) Farklı tarım ürünlerinin yetiştirilmesi
- B) Nüfus yoğunluğunun fazla olması
- C) Sanayinin gelişmiş olması
- D) Ulaşım ağının gelişmiş olması
- E) Bitki örtüsünün cılız olması

17) I. Artemis Tapınağı

II. Zeus Heykeli

III. İskenderiye Feneri

IV. Kral Mozoles'in Anıt Mezarı

Yukarıda verilen Dünya'nın Yedi Harikası'ndan hangileri **Türkiye'de** yer alır?

- A) Yalnız I
- B) Yalnız II
- C) II ve III
- D) I ve IV
- E) II ve IV

18) Aşağıdaki ülkelerin hangisinde Dünya'nın Yedi Harikası'ndan birine ait **kalıntılar** bulunur?

- A) Mısır
- B) İran
- C) Almanya
- D) Fransa
- E) İspanya

19) Aşağıdaki tabloda 2004 yılına ait bazı ülkelere gelen turist sayısı, elde ettiği gelir ve dünyadaki payları verilmiştir.

Ülke	Gelen Turist (milyon)	Dünyadaki Payı (%)	Geliri (Milyar dolar)	Dünya'daki Payı (%)
Fransa	76,0	9,4	42,3	6,2
İspanya	55,6	6,9	47,9	7,0
ABD	49,4	6,1	81,7	12,0
Almanya	21,5	2,7	29,2	4,3
Türkiye	20,3	2,5	18,2	2,7

Tabloya göre aşağıdakilerden hangisine **ulaşamaz**?

- A) Turist başına en fazla geliri ABD elde etmiştir.
- B) İspanya turizmden elde ettiği gelir bakımından 2. sırada yer alır.
- C) Almanya ve Türkiye, gelen turist sayıları bakımından birbirine en yakın olan ülkelerdir.
- D) Turist sayısı en fazla olan ülkenin turizm geliri de en fazladır.
- E) En az turist Türkiye'ye gelmiştir.

20) Aşağıdakilerden hangisi milli parkların özelliklerinden **değildir**?

- A) Değişik bitki ve hayvan türlerini barındırır.
- B) Kültürel eserlerin bazılarını içerisine alır.
- C) Kanunlar ve çeşitli düzenlemelerle koruma altına alınmış yerlerdir.
- D) Yeryüzündeki dağılış alanlarını yer şekilleri belirler.
- E) Turistik değer taşıyan alanlardır.

1	2	3	4	5	6	7	8
D	A	C	E	C	B	C	E
9	10	11	12	13	14	15	16
A	D	E	D	E	B	C	E
17	18	19	20				
D	A	D	D				

ÇALIŞMA TESTİ – KÜLTÜR ÖGELERİNİN OLUŞUMU

1- Aşağıdaki kültür bölgelerinin hangisinin Türk kültürüne etkisi daha az olmuştur?

- A) İslam B) Latin C) Hint
D) Avrupa E) Çin

2- Aşağıda verilenlerden hangisi Türk kültürüne ait simgeler arasında sayılamaz?

- A) At B) Ebru C) Tapınak
D) Kilim E) Çadır

3- Aşağıda verilenlerden hangisi kültürü oluşturan manevi (soyut) unsurlar arasında sayılamaz?

- A) İnançlar
B) İklim özellikleri
C) Komşu kültürler
D) Ahlak kuralları
E) Din

4- Aşağıdaki ülkelerin hangisinde Türk kültürünün izlerine rastlanması zordur?

- A) Bulgaristan B) Mısır
C) Suriye D) Avusturya
E) Kanada

5- Aşağıda verilenlerden hangisi Türk kültürünün genel özellikleri arasında sayılamaz?

- A) Asya Kıtası'nın tamamında Türk kültür izlerine rastlanır.
B) Eski ve köklü bir kültürdür.
C) Hem göçebe hem de yerleşik kültürel ve çeşitliliğe sahiptir.
D) Tarım ve hayvancılık ön plandadır.
E) İnsan sevgisi ve dünya barışını esas alır.

6- Aşağıdakilerden hangisi Türk kültürünü etkileyen uygarlıklar arasında sayılamaz?

- A) Mısır uygarlığı
B) İnkâ uygarlığı
C) Mezopotamya uygarlığı
D) Akdeniz uygarlığı
E) Arap uygarlığı

7- I. Coğrafi konum

II. Simgeler

III. Su özellikleri

IV. Yüzey şekli özellikleri

V. Komşu kültürler

Yukarıda verilenlerden hangisi kültürü oluşturan maddi unsurlar arasında sayılamaz?

- A) I B) II C) III D) IV E) V

8- I. İslam kültürü

II. İran- Pers kültürü

III. Tibet kültürü

IV. Yunan kültürü

Türkler Anadolu'ya yerleştirildiğinde yukarıdaki kültürlerin hangisinden etkilenmiş olamaz?

- A) Yalnız III B) I ve II C) I ve IV
D) II ve III E) III ve IV

9- Türk kültürüne ait eserlere Avrupa Kıtası'nda aşağıdaki ülkelerin hangisinde rastlanmaz?

- A) Yunanistan B) Macaristan
C) Norveç D) Bosna-Hersek
E) Sırbistan

10- Türk kültürüne ait eserler incelendiğinde ulaşım ve ticaret ile ilgili olarak pek çok mimari yapının ortaya çıktığı görülür.

Aşağıdakilerden hangisi bunlardan sayılır?

- A) Cami B) Kervansaraylar
C) İmarethane D) Hamam
E) Kapalı çarşılar

11- Türklerin yaşadığı doğal ortamlar göz önüne alındığında Türk kültürünü en iyi yansıtan özellik aşağıdakilerden hangisidir?

- A) Bozkır kültürü
B) Savaşçı kültür
C) Denizci kültür
D) Kent kültürü
E) Oba kültürü

12- Aşağıda verilenlerden hangisi büyük Türk Kültür eserleri arasında sayılamaz?

- A) Gök Medrese
B) Orhun Yazıtları
C) Taç Mahal
D) Topkapı Sarayı
E) Babil'in Asma Bahçeleri

13- Orta Asya Türk kültüründen günümüze bazı gelenekler halen kullanılmaktadır.

Aşağıda verilenlerden hangisi bu gelenekler arasında sayılamaz?

- A) Eşiğe basmamaya dikkat edilmesi
B) Türbelerde ağaçlara paçavra bağlanması
C) Ölen kişilerin evlerine yemek taşıma
D) Anneler gününde annelerin ziyaret edilmesi
E) Nevruz bayramı

14- Türk kültürünün ortaya çıktığı bölgeler denizden uzak ve yüksek kesimler olduğundan tarım ve hayvancılık temel geçim kaynağı olmuştur. En önemli hayvanlar da at ve koyundur.

Buna göre bu kültürel özelliği oluşturan temel etmen aşağıdakilerden hangisidir?

- A) Gelenekler
B) İklim özellikleri
C) Dünya görüşü
D) Dil
E) Simgeler

15- Aşağıda verilen filozof ve şairlerden hangisi Türk kültürüne ait eserler birakmamıştır?

- A) Yunus Emre
B) Mevlâna
C) Pir Sultan Abdal
D) Ömer Hayyam
E) Karacaoğlan

16- Aşağıdakilerden hangisi Türk kültür ve uygarlığına ait izler arasında sayılamaz?

- A) İlk kumaşı kullanmışlardır.
- B) İlk kâğıt parayı basmışlardır.
- C) Atı ilk olarak evcilleştirmişlerdir.
- D) Sömürgeciliği geliştirmişlerdir.
- E) Mevleviliği yaymışlardır

17-

- I. Yazılı kayıtlar
- II. Anıtlar - Mezarlar
- III. Ahlak kuralları

Yukarıdakilerden hangileri, geçmiş yıllarda yaşamış medeniyetler hakkında somut bilgiler verir?

- A) Yalnız I
- B) Yalnız II
- C) Yalnız III
- D) I ve II
- E) II ve III

18-

Dünyanın farklı yerlerinde yaşayan insanların giyim tarzlarının farklı olmasında aşağıdaki-lerden hangisinin etkisi yoktur?

- A) İklim koşullarının
- B) Örf ve geleneklerin
- C) Dini inançların
- D) Statü kazanma kaygısının
- E) Nüfus sayısının

19-

Türk kültürü, ilk ortaya çıktığı Orta Asya'da aşağıdaki hangi kültürlerle komşuydu?

- A) Çin - Tibet - Hint
- B) Japon - Çin - Yunan
- C) Yunan - Roma - İran
- D) Çin - Roma - İran
- E) Hint - Roma - Arap

20)

- I. Ahlak Kuralları
- II. Simgeler
- III. Dini İnançlar
- IV. Toprak özellikleri

Yukarıdakilerden hangileri, kültürü oluşturan manevi unsurlardandır?

- A) I ve II
- B) I ve III
- C) II ve III
- D) II ve IV
- E) III ve IV

21) Dünyadaki kültür bölgelerinin ortaya çıkmasında etkili olan aşağıdaki faktörlerden hangisinin değişken, hareketli yapıda olduğu söylenebilir?

- A) Toprak özellikleri
- B) Coğrafi Konum
- C) Manevi unsurlar
- D) İnsanlar arası iletişim
- E) İklim özellikleri

22) Kültürü oluşturan maddi unsurlardan biri de simgelerdir. Aşağıdakilerden hangisi, Türk Kültürünün simgesi olarak kabul edilen unsurlardan biri

DEĞİLDİR?

- A) Halıcılık
- B) Lale
- C) Yelkenli gemi
- D) Ebru
- E) Cirit Oyunu

Kültürü oluşturan maddi unsurlardan biri de simgelerdir.

Aşağıdakilerden hangisi, Türk kültürünün simgesi olarak kabul edilen unsurlardan biri değildir?

- A) Halıcılık
- B) Lale
- C) Yelkenli gemi
- D) Ebru
- E) Cirit oyunu

23-

Aşağıdakilerden hangisi, Türk kültürünün genel özelliklerinden biri değildir?

- A) Tarım ve hayvancılık önemli olmuştur.
- B) Çok köklü ve eski bir kültürdür.
- C) Komşu olduğu medeniyetlerden hem etkilenmiş, hem de etkilemiştir.
- D) Hem göçebe hem yerleşik hayata ait özellikler taşımıştır.
- E) Denizellik koşullarının etkisinde daha fazla kalmıştır.

24) Aşağıdakilerden hangisi, coğrafi konum ve iklim şartlarının konutlar üzerindeki etkisine örnek

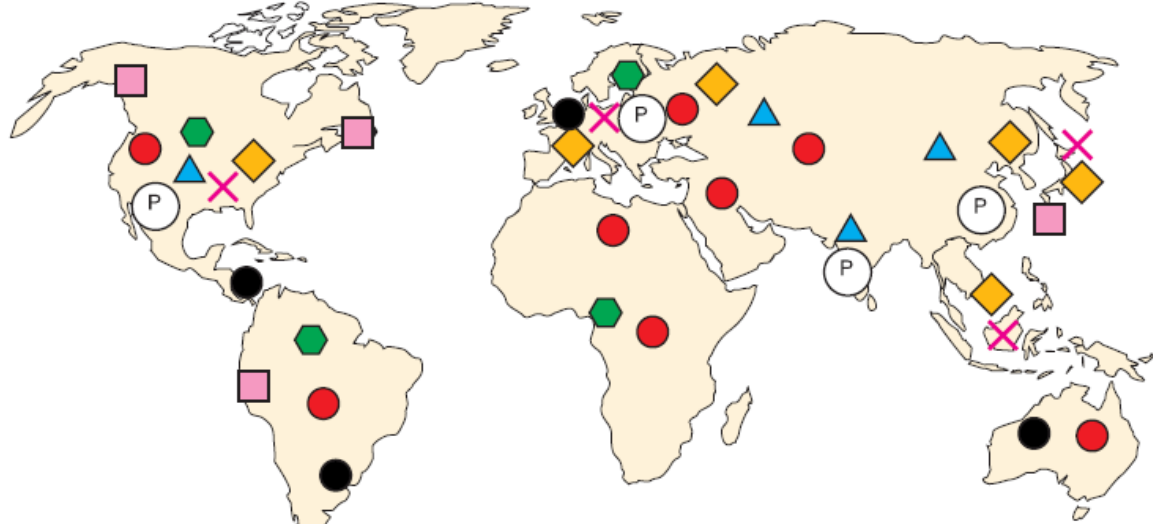
DEĞİLDİR?

- A) Rize'nin köylerinde ahşap evlerin bulunması
- B) Konya'nın köylerinde kerpiç evlerin bulunması
- C) Harran evlerinin çatısının koni şeklinde olması
- D) Yönetim binalarının çok katlı olması
- E) Akdeniz kıyılarında evlerin düz damlı olması

25) Türklerin farklı kültürlerle sahip milletleri aynı bayrak altında hoşgörüyle yaşatabilmesi aşağıdakilerden hangisinin bir SONUCUDUR?

- A) Kültürde karasallığın etkili olmasının
- B) Tarımın önemli geçim kaynağı olmasının
- C) Geniş alanlara yayılabilmesinin
- D) Yerleşik yaşama geçmelerinin
- E) Geleneklere bağlılığın artmasının

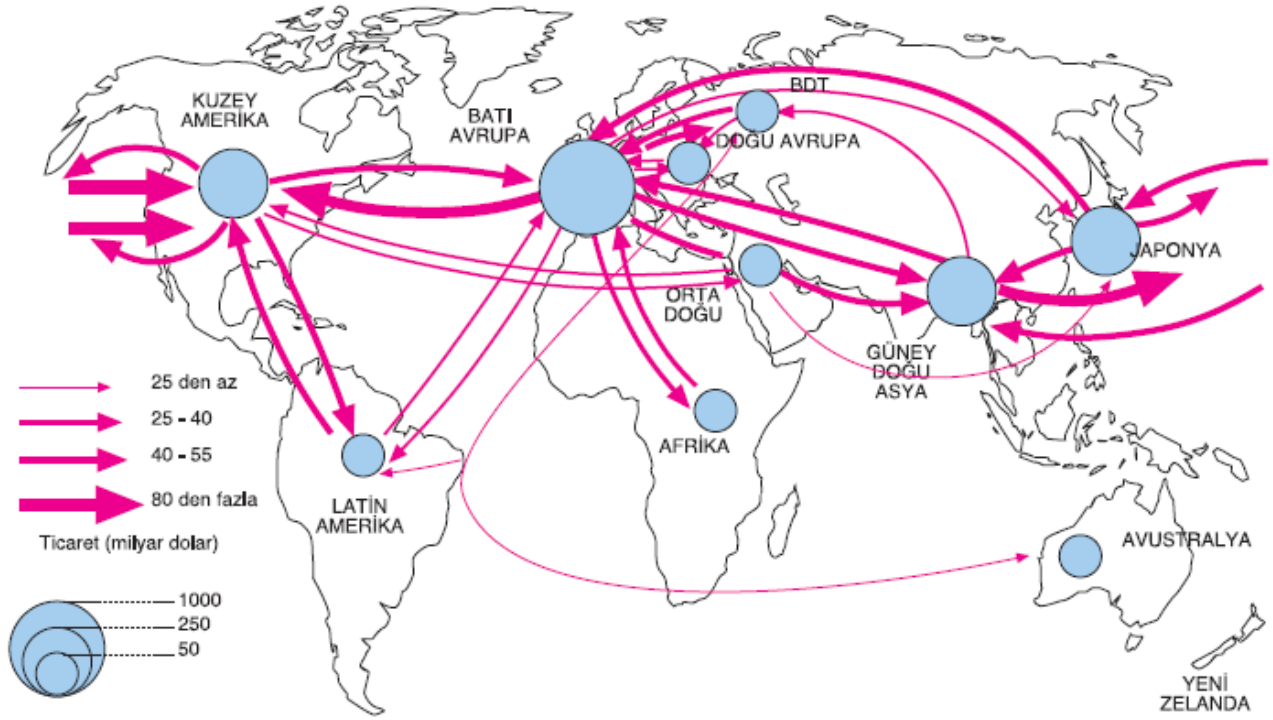
Hammaddeler	Petrol	Taş kömürü	Orman Ürünleri	Doğal gaz	Pamuk	Yün	Altın Gümüş	Buğday	Pirinç
Üretim alanları	<ul style="list-style-type: none"> S. Arabistan Irak B. Arap Emir. Kuveyt İran Nijerya ABD Venezuelle Bağımsız Devletler Topluluğu 	<ul style="list-style-type: none"> Çin ABD Hindistan Avustralya Rusya Almanya Ukrayna 	<ul style="list-style-type: none"> Rusya Konya Brezilya Kanada ABD Finlandiya 	<ul style="list-style-type: none"> Rusya Kazakistan Türkmenistan Çin ABD İran 	<ul style="list-style-type: none"> Çin ABD Hindistan Pakistan Özbekistan Türkiye Brezilya 	<ul style="list-style-type: none"> Avustralya Orta Asya Türk Cum. Çin Hindistan İran Türkiye 	<p>Altın</p> <ul style="list-style-type: none"> G. Afrika Cumh. ABD Avustralya Çin Rusya Peru <p>Gümüş</p> <ul style="list-style-type: none"> Meksika Peru Çin Avustralya 	<ul style="list-style-type: none"> Çin ABD Hindistan Rusya Fransa Avustralya 	<ul style="list-style-type: none"> Çin Hindistan Endonezya



- Balık üretim alanları
 ⬡ Orman üretim alanları
 ▲ Tarımsal üretim alanı
 ◆ Sanayi üretim alanı
● Madenler ve enerji kaynakları üretim alanları
● Hayvancılık üretim alanları
P Pazar alanları
✕ Hizmet üretim alanı

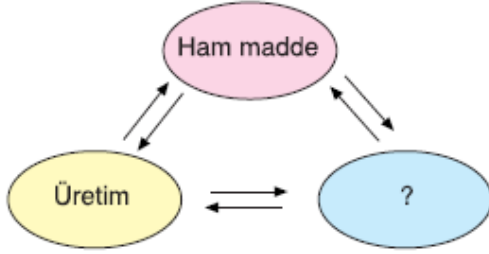
Ticaretin Yoğunlaştığı Bölgeler

Dünya ticareti Kuzey Yarım Küre'nin orta kuşağında yoğunlaşmıştır. Ticaretin yoğunlaştığı bölgeler, Kuzey Amerika, Batı Avrupa, Doğu ve Güney Asya'dır.



Dünya ticaret ağı haritası

1.



Küresel ticaretin unsurlarını gösteren şemada soru işareti gelen yere aşağıdakilerden hangisi yazılmalıdır?

- A) Kültür B) Pazar
C) Ülke D) Coğrafi şartlar
E) Doğal kaynaklar

2. Aşağıda ham madde ve o ham maddenin yoğun üretildiği ülkeler eşleştirilmiştir.

Bu eşlemlerden hangisi yanlıştır?

Ham madde	Üretildiği ülke
A) Kakao	→ Brezilya - Gana
B) Pirinç	→ Çin - Hindistan
C) Kenevir	→ İsveç - Norveç
D) Pamuk	→ Pakistan - Özbekistan
E) Buğday	→ Çin - ABD

3. Dünya ticaretinin, ABD, Batı Avrupa ülkeleri ile Güneydoğu Asya ülkelerinde yoğunlaşmasının nedenleri arasında,

- I. Önemli üretim alanları olmaları
II. Büyük pazar alanları oluşturmaları
III. İleri teknolojiye sahip olmaları
IV. Sıcak kuşakta bulunmaları

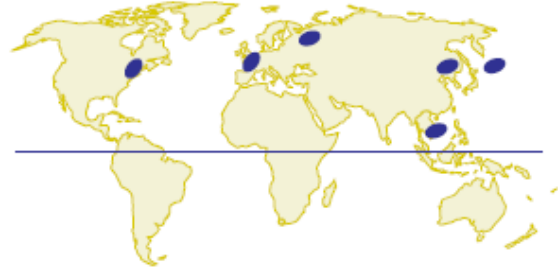
Yukarıdakilerden hangileri etkili olmamıştır?

- A) Yalnız I B) Yalnız IV C) II ve III
D) II ve IV E) III ve IV

4. Aşağıdakilerden hangisi, hizmet üretimi faaliyetlerinden biri değildir?

- A) Madencilik B) Bankacılık
C) Sigortacılık D) Aracılık hizmetleri
E) Reklamcılık

5.



Yukarıdaki Dünya haritasında, aşağıdakilerden hangisinin dağılımı gösterilmiştir?

- A) Tarımsal ham madde alanlarının
B) Hayvancılık üretim alanlarının
C) Sanayi üretim alanlarının
D) Orman üretim alanlarının
E) Maden üretim alanlarının

6. Aşağıdakilerden hangisi, ülkelerin ticari faaliyetlerde, diğer rakiplerine üstünlük kurabilmesi için gereken unsurlardan biri olamaz?

- A) Pazara kaliteli ürünler sunabilmek
B) Ürün çeşitliliğini artırmak
C) Değişen tüketim eğilimlerine cevap verebilmek
D) Ürünleri istenilen yer ve zamanda tüketiciye sunabilmek
E) Pazar alanlarını sınırlandırmak

7. Aşağıdaki ülkelerden hangisi, Dünya'nın önemli toprak ürünleri üreticilerinden biri değildir?

- A) Rusya B) Çin C) Hindistan
D) Japonya E) ABD

8. Aşağıdaki ülkelerden hangisi, küresel ölçekte bir pazar alanı değildir?

- A) İngiltere B) Japonya C) Sudan
D) ABD E) Hindistan

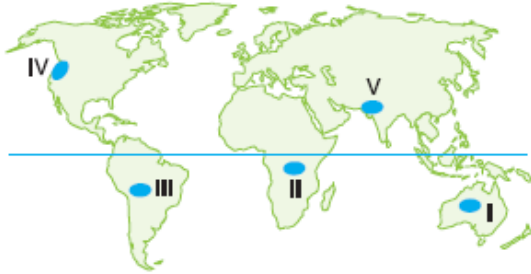
9. Ulaşım sistemlerindeki teknolojik ve yapısal değişiklikler, ülkeler ve bölgeler arasında;

- I. Ticaretin hızla gelişmesi
II. Dağıtım kanallarının çeşitlenmesi
III. Tüketicinin azalması

gelişmelerinden hangilerine neden olmuştur?

- A) Yalnız I B) Yalnız II C) Yalnız III
D) I ve II E) II ve III

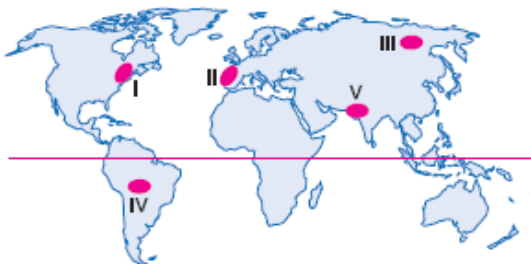
10.



Haritada belirtilen yerlerden hangisi, maden ve enerji kaynağı üretim alanı değildir?

- A) I B) II C) III D) IV E) V

11.



Haritada işaretli yerlerden hangileri dünya ticaretinin yoğunlaştığı alanlardan değildir?

- A) I ve II B) II ve III C) III ve IV
D) III ve V E) IV ve V

12. Aşağıdaki tabloda bazı ülkelerin 2006 yılındaki ham petrol üretim ve tüketimi gösterilmiştir.

Ülkeler	Günde varil olarak	
	Üretim	Tüketim
S. Arabistan	10, 719	2, 068
ABD	8, 367	20, 588
Rusya	9, 668	3, 103
İran	4, 146	1, 627
Almanya	—	2, 630

Tablodaki bilgilerden yararlanarak aşağıdaki-lerden hangisine ulaşamaz?

- A) Petrol tüketimi en fazla olan ülke ABD'dir.
B) İran'ın petrol tüketimi, üretiminden azdır.
C) Almanya'da petrol üretilmediği halde, tüketim İran'dan fazladır.
D) S. Arabistan'da petrol üretimi verilen ülkelerin her birinden daha fazladır.
E) Petrol tüketimi giderek artmaktadır.

13. 21. yüzyılda ticaret ve yatırım ağlarının uluslararası ilişkilere olan etkisi giderek artmaktadır. Çünkü birçok kurum ve kuruluşun kendi ülkesi dışına yatırım yapmasıyla, ticarete ve taşımacılıkta siyasi sınırların yerini serbestleşen ticari ilişkiler almaktadır.

Buna göre, serbestleşen ticari ilişkilerin aşağıdakilerden hangisine olan ihtiyacı artırması beklenmez?

- A) Serbest ticaret bölgesine
B) Enerji ihtiyacına
C) Pazar alanına
D) Gümrük vergilerine
E) Sermaye akımına

14. Çin ve Hindistan'ın önemli birer pazar alanı olmaları ile aşağıdakilerden hangisi arasında güçlü bir ilişki olduğu söylenebilir?

- A) Yüz ölçüm B) Nüfus sayısı
C) Sanayileşme D) Ham madde
E) Sermaye birikimi

CÜMLE TAMAMLAMA (BOŞLUK DOLDURMA) SORULARI

- 1) Ülkemizde tarım kıyı ovalarında yapılır.
- 2) Ülkemizde Tarım iç bölgelerinde yağış azlığına bağlı olarak yapılır.
- 3) Ülkemizde bir ürünün en fazla yetiştirildiği yere o ürünün bölgesi denir.
- 4) Çayın tamamı bölgesinde üretilir ve işlenir.
- 5) Buğday, arpa, çavdar, yulaf gibi kuru tahılların **en fazla** yetiştirildiği bölgemiz Bölgesidir.
- 6) Ülkemizde pamuğun yarısı Bölgesinden elde edilir.
- 7) Tütün, ülkemizde sadece Bölgesinde yetiştirilemez. Bu durumun nedeni toprak yetersiz olmasıdır.
- 8) Pamuk, Karadeniz Bölgesinde mevsimi yağışlı geçtiği için yetiştirilemez.
- 9) Pamuk, İç Anadolu Bölgesinde Mevsimi soğuk ve sıcaklık değerleri düşük olduğu için **yetiştirilemez**.
- 10) Zeytin, incir, üzüm, tütün, haşhaş üretiminde ülkemizde ilk sırayı Bölgesi alır.
- 11) Patates, nohut, yeşil mercimek üretimi en fazla Bölgesinde yapılır.
- 12) Sulanabilen alanların artmasıyla Güneydoğu Anadolu Bölgesinde tarımının ekim alanları artmıştır.
- 13) Sulamanın artmasıyla sorunu ortadan kalkar.
- 14) Akdeniz Bölgesi, kış mevsimi ılık geçtiği için Faaliyetlerinde birincidir.
- 15) Ayçiçeği, pirinç, dut, çilek, kestane üretiminde Bölgesi 1.dir.
- 16) Şeker pancarı ekimi yapılan yörelerde gelişir. Bu durumun nedeni pancar küspesinin hayvan yemi olarak kullanılmasıdır.
- 17) Ülkemizde **şeker pancarının** en fazla ekiminin yapıldığı yer Bölgesidir.
- 18) **Taşkömürünün** en fazla çıkarıldığı yer Bölgesidir.
- 19) **Taşkömürünün** en fazla kullanıldığı alan sanayisidir. Çünkü demirin ergitilmesi için yüksek sıcaklığa ihtiyaç vardır.
- 20) **Bursa, Balıkesir, Kütahya** ve **Eskişehir** illerinde çıkarılır.
- 21) **Hekimhan, Hasaңcelebi, Çetinkaya** yörelerinde cevheri çıkarılır.
- 22) Konya – Sarayönü'nde çıkarılır.
- 23) Karadeniz ve Doğu Anadolu Bölgelerinde sanayisi gelişmemiştir.
- 24) Orman ürünleri sanayisi bölgelerimizde **gelişmemiştir**.
- 25) **Balıkçılık** faaliyetinde Bölgesi 1.dir.
- 26) **Bozkırların** yaygın olduğu yörelerimizde Beslenir.
- 27) Kıvırcık, merinos, dağlıç, sakız başlıca Türleridir.
- 28) Ülkemizde **bal** üretiminde Bölgesi birincidir.
- 29) Ülkemizde ilk **petrol rafinerisi** da kurulmuştur.
- 30) Ülkemizde maden çeşitliliğinin **en fazla** olduğu yer Bölümüdür.
- 31) Ülkemiz kıyılarında delta ovalarının **yaygın** olması genliğinin az olduğunun kanıtıdır.
- 32) Ülkemizin en büyük **delta ovası** Seyhan ve Ceyhan Nehirlerinin oluşturduğu'dır.
- 33) Ülkemizin en büyük karasal ovası İç Anadolu Bölgesi'nde yer alan Ovasıdır.
- 34) Karadeniz ve Doğu Anadolu Bölgelerinde madeni yaygın olarak bulunur.

TANER BEYAZ

Coğrafya Öğretmeni