



BİTLİS İL MİLLÎ EĞİTİM MÜDÜRLÜĞÜ

KAZANIM PEKİŞTİRME ÇALIŞMASI



3. SINIF

1. SAYI

**#evdekal
bitlis**

BU KİTAPÇIKTA;

TÜRKÇE 15 SORU

MATEMATİK 15 SORU

FEN BİLİMLERİ 15 SORU

HAYAT BİLGİSİ 15 SORU

İNGİLİZCE 15 SORU yer almaktadır.

Not: Cevap anahtarı <https://bitlis.meb.gov.tr/> duyurular sekmesinde açıklanacaktır.

Bu çalışmada Türkçe sorularını hazırlayan AYSU öğretmene, Matematik sorularını hazırlayan Handen DEĞEK'e, Fen Bilimleri sorularını hazırlayan Emre BIYIK'a, Hayat Bilgisi sorularını hazırlayan Gülseren İŞCAR'a, İngilizce sorularını hazırlayan Gülşah TONBAKLAR'a teşekkürler...

BİTLİS MEM

Mayıs 2020

TÜRKÇE TESTİ

Ben Sözümden Dönmem

Bir gün Hoca'ya bir komşusu sorar.
 – Hoca'm, sen kaç yaşındasın?
 Hoca ak sakallarını sıvazlar.
 – Kırk yaşımdayım.
 Komşusu hemen itiraz eder.
 – Nasıl olur Hoca'm?
 On yıl önce de aynı şeyi söylemiştiniz,
 deyince Hoca gülümser.
 – Bak komşum sözünden dönmek bize
 yakışmaz.
 Sen bu soruyu on yıl sonra yine sor.
 Göreceksin aynı cevabı vereceğim.
 Ben sözümünden dönmem, der.

**1.,2.,3. ve 4. Soruları metne göre
cevaplayınız.**

**1)Yukarıdaki metnin başlığı kaç heceden
oluşmaktadır?**

- A) 7 B) 6 C) 8

2)Metnin türü nedir?

- A)deneme
 B)masal
 C)fıkra

3)Nasrettin Hoca kiminle sohbet ediyor?

- A) Hanımıyla
 B) Komşusuyla
 C) Kendiyle

**4)Komşusu Nasreddin Hocaya neden itiraz
ediyor?**

- A) Verilen sözden dönülmez.
 B) He sene bir yaş daha büyünür.
 C) Hoca her sene aynı yaştadır.

**5)"Nagihan ormanları çok sevdiği için
....."cümlesindeki boşluğa hangisi
gelirse anlam bozulmaz?**

- A) Babasıyla ormana fidan dikmeye gitmişler.
 B) Ormanda kuşların yuvalarını bulamamışlar.
 C) Çünkü ormanı sevmiyorlar.

**6) "Mete sabahları erken uyanmayı bir türlü
sevememişti."**

**Yukarıdaki cümlelerin içerisinde aşağıdaki
soruların hangisinin cevabı yoktur?**

- A) Ne zaman?
 B) Niçin?
 C) Kim?

7) Aşağıdaki cümlelerin hangisinin hece sayısı daha fazladır?

- A) Evde kaldığım günler bol bol kitap okudum.
- B) Şimdilik evde kal hayat, eve sığar.
- C) Babaannemleri ziyarete gitmek isterdim.

8) “-cı, -lı, -lık, -sız” ekleri eklendikleri sözcüklerin anlamını değiştirirler. Bu eklerle yapım ekleri denir.

Aşağıdaki sözcüklerden hangisi yapım eki almamıştır?

- A) denizaltı
- B) balıkçı
- C) gözlük


9)Aşağıdaki deyimlerin hangisinin karşılığı yanlış verilmiştir?

- A) Gözünden düşmek: bir kişi ya da bir şeyin değerini yitirmek.
- B) Burnunda tütme: kavgınlığı ortadan kaldırmak.
- C) Yerli yersiz konuşmak gevezelik etmek.

10) Hangisi soyut kelimedir?

- A) ayna
- B) duman
- C) rüya

11)Aşağıdaki görsellerin hangisi birleşik addır?



12)“Ağaçlar çiçeklerle dolu demek ki bu yıl meyveler çok olacak.”

Cümlesinde hangi sorunun cevabı yoktur?

- A) Nerede?
- B) Ne zaman?
- C) Ne?

3.SINIF KAZANIM PEKİŞTİRME TESTİ

13) “Mehmet sınavı kazanmak için çok çaba gösterdi.”

Yukarıdaki cümlede altı çizili kelimenin eş anlamlısı aşağıdakilerden hangisidir?

- A) destek
- B) gayet
- C) çalışkan

15) “ Limandan yukarı doğru yürü () biraz ilerideki tabelada 12 () sokak yazacak aradan girince hastahaneyi görürsün ()”

Cümlesinde parantez içlerine sırayla hangi noktalama işaretleri konur ?

- A) (.) (.) (.)
- B) (,) (.) (.)
- C) (!) (,) (?)

14) “Fındıkları toplamak için sabah akşam çalıştılar, işlerini bitirdiler.”

Cümlesindeki altı çizili kelimeler arasındaki anlam ilişkisi hangi seçenekte vardır?

- A) hekim – muallim
- B) hediye– armağan
- C) kuvvetli – zayıf

$$\begin{array}{r}
 \boxed{} \\
 6 \overline{) 32} \\
 \underline{18} \\
 14
 \end{array}$$

03

1) Yukarıda verilen bölme işleminde bölünen kaçtır?

- A) 192 B) 195 C) 102

2) $5 \times 100 = \triangle$
 $80 \div 10 = \square$

Yukarıda verilen işlemlere göre $\triangle + \square$ kaçtır?

- A) 850 B) 580 C) 508

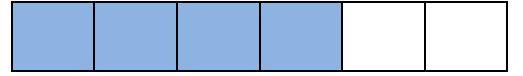
$$\begin{array}{r}
 \boxed{} \\
 7 \overline{) } \\
 \underline{} \\
 \star
 \end{array}$$

3) Yukarıda verilen bölme işleminde \star yerine yazılabilecek sayıların toplamı kaçtır?

- A) 28 B) 21 C) 20

4) Sepette bulunan 86 limonu 6 poşete eşit şekilde paylaştırdık. Paylaştırma işleminden sonra sepette kaç tane limon kalmıştır?

- A) 2 B) 14 C) 6



5) Yukarıdaki şeklin renkli kısmı hangi kesirle gösterilir?

- A) $\frac{6}{4}$ B) $\frac{6}{6}$ C) $\frac{4}{6}$

6) Aşağıdakilerden hangisi birim kesri gösterir?

- A) $\frac{1}{5}$ B) $\frac{3}{1}$ C) $\frac{6}{6}$

7) Hangi kesrin okunuşu yanlıştır?

A) $\frac{2}{7}$: Yedide iki


B) $\frac{1}{10}$: Onda bir

C) $\frac{3}{5}$: Üçte beş

3.SINIF KAZANIM PEKİŞTİRME TESTİ


8) Annemin yaptığı 32 çöreğin $\frac{1}{4}$ 'ini yedik.
Geriye kaç tane çörek kaldı?

- A) 8 B) 24 C) 28



9) Yukarıda verilen saatin okunuşu hangisidir?

- A) 9' u çeyrek geçiyor
B) 3' e çeyrek var
C) 3' e 9 var



10) Yukarıdaki saat öğleden sonra saat kaç göstermektedir?

- A) 13.25
B) 17.05
C) 14.25

11) Saat 14.20' de okuldan ayrılan Eda 35 dakika sonra eve varmıştır. Eda eve vardığı zaman saat kaç gösterir?

- A) 14.35
B) 15.55
C) 14.55

12) Verilen eşleştirmelerden hangisi yanlıştır?

- A) 50 Kr = 5 TL
B) 700 Kr = 7 TL
C) 4 TL 50 Kr = 450 Kr

13) Selim' in ağırlığı 34 kg' dır. Yavuz' un ağırlığı ise Selim' den 5 kg hafiftir. Selim ile Yavuz' un toplam ağırlığı kaç kg' dır?

- A) 39 kg
B) 29 kg
C) 63 kg

14) Aşağıda verilen geometrik cisimlerden hangisinin köşesi ve ayrıtı vardır?

- A) Küre
B) Küp
C) Koni

15) Aşağıdaki geometrik şekillerden hangisinin köşe ve kenar sayısı diğerlerinden farklıdır?



3.SINIF KAZANIM PEKİŞTİRME TESTİ

FEN BİLİMLERİ TESTİ

1) Görme olayının gerçekleşebilmesi için neler gereklidir?

- A) Baktığımız varlığın çok fazla aydınlatılmış olması
- B) Işık kaynağından gelen ışınların direkt göze gelmesi
- C) Yeteri kadar ışığın önce cisme sonradan cisimden göze gelmesi

- I. Ay, ışık kaynağı değildir.
- II. Ateş böceği yapay ışık kaynağıdır.
- III. Işık bir doğru boyunca yayılır.
- IV. Yıldızlar doğal ışık kaynağıdır.

2) Yukarıda ışık ve ışık kaynakları ile ilgili verilen bilgilerden kaç tanesi doğrudur?

- A) 3
- B) 4
- C) 2

3) Aşağıda verilen seçeneklerin hangisinin tamamında doğal ışık kaynakları verilmiştir?

- A) Güneş – Lamba – Mum – Ateş Böceği – El feneri
- B) Ateş böceği – Yıldırım – Güneş – Mürekkep Balığı
- C) Ay – Floresan Lamba – Güneş – Ateş Böceği



Yukarıdaki ışık kaynakları ile ilgili olarak;

- I. Işık kaynaklarının hepsi yapay ışık kaynaklarıdır.
- II. Işık kaynaklarının hepsi insanlar tarafından üretilir.
- III. Yayıdıkları ışıkları, başka ışık kaynaklarından alırlar.
- IV. Hepsi de elektrikle ışık yayar.

4) Yukarıda verilen bilgilerden hangileri yanlıştır?

- A) I ve III
- B) Yalnız III
- C) III ve IV

- I. Ses dalgalar halinde yayılır
- II. İnsan kulağı her sesi duyar
- III. Ses kaynağı bizden uzaklaştıkça ses şiddeti azalır.
- IV. Gök gürültüsü yapay ses kaynağıdır.

5) Yukarıda ses ile ilgili verilen bilgilerden hangisi ya da hangileri doğrudur?

- A) I, III ve IV
- B) I ve III
- C) Yalnız III

6)Aşağıdaki seçeneklerden hangisinde ışık ile ses arasındaki fark verilmemiştir?

- A) Işık doğru boyunca yayılır, ses dalgalar halinde yayılır.
- B) Işık sese göre daha yavaş yayılır.
- C) Işık opak maddelerden geçemez, ses ise opak maddelerde yayılır.

7) Aşağıdaki ses kaynaklarından hangisi doğal ses kaynağıdır?

- A) Zil sesi
- B) Korna sesi
- C) Yağmur Sesi

8)Aşağıdakilerden hangisi canlıların ortak özelliklerinden değildir?

- A) Besin üretme
- B) Büyüme ve Gelişme
- C) Solunum

Canlıların ortak özelliklerinden biri de hareket etme özelliğidir.

9) Bitkilerin hareket etme durumu aşağıdakilerden hangisi gibi olamaz?

- A) Güneşe doğru yönelme
- B) Kökleri ile topraktaki suya yönelme
- C) Yer değiştirme

I. Tavşan – İnek - Balık

II. Kurbağa – Yılan – Papatya

III. Çekirge – İnsan - Ayçiçeği

10) Yukarıda numaralandırılmış seçeneklerin hangisinde sırayla zıplayarak hareket eden, yürüyerek hareket eden ve yönelme hareketi yapan canlılar örnek olarak verilmiştir?

- A) I B) III C) II



11) Yukarıdaki görselde bu bitki ile ilgili hangi özellik anlatılmaktadır?

- A) Büyüme ve Gelişme
- B) Üreme
- C) Boşaltım

12) Aşağıda verilen doğal çevre ve yapay çevre ile ilgili verilen örneklerden hangisi doğrudur?

<u>Orman</u>	<u>Havuz</u>	<u>Göl</u>
A) Yapay Çevre	Doğal Çevre	Yapay Çevre
B) Doğal Çevre	Yapay Çevre	Yapay Çevre
C) Doğal Çevre	Yapay Çevre	Doğal Çevre



13) Yukarıdaki görsele göre ayçiçeği bitkisi için aşağıdakilerden hangisini söylersek daha doğru olur?

- A) Ayçiçeği bitkisi Güneş'e yönelme hareketi (Uyarıya tepki verme) yapmıştır.
- B) Ayçiçeği bitkisinin büyüüp gelişmesi için sadece Güneş'e ihtiyacı vardır.
- C) Ayçiçeği bitkisi Güneş battığında da aynı yönde kalır.

14) Aşağıdakilerden hangisi yapay çevreye örnektir?

- A) Van Gölü
- B) Ağrı Dağı
- C) Kümbetler

Ülkemizi ve Dünya'yı etkisi altına alan korona salgını (covid 19) nedeniyle bütün insanlar evlerine kapandı. Ülkemizde de 'Hayat Eve Sığar' sloganı ile ülke hayatımıza evlerimizde devam ediyoruz. Sosyal mesafemizi koruyarak, maskelerimizi takarak, el temizliğimize dikkat ederek dışarıda olabildiğince daha az vakit geçiriyoruz. Ve görüyoruz ki doğal çevremizde olumlu güzel değişiklikleri hep beraber gözlemliyoruz. Denizlerin, göllerin, akarsuların daha temiz ve berrak bir hal aldığını, havanın kirlilik oranının giderek azaldığını, doğadaki canlıların daha güzel yaşadığını ve özellikle ozon tabakasında oluşan deliğin bile kapandığını görüyoruz.


15) Yukarıdaki paragraftan nasıl bir sonuç çıkarabiliriz?

- A) Bu salgın hastalık bittikten sonra da evlerimizde yaşamaya devam emeliyiz.
- B) İnsanların, doğal çevreyle olan olumsuz etkisi ne kadar azalırsa doğa o oranda canlanmaya başlamaktadır.
- C) Salgın hastalıklar doğal çevreyi canlandırmaktadır.

3.SINIF KAZANIM PEKİŞTİRME TESTİ

HAYAT BİLGİSİ TESTİ

1.Yangınla karşılaştığımızda öncelikle hangisini ararız?



2) Yukarıdaki levhalardan hangisi yaya giremez anlamındadır?

- A) I B) II C) III

3) Hangi yer ve durumlarda karşıdan karşıya geçilemez?

- A) Yaya için yeşil ışık yandığı zaman
B) Arabalar için yeşil ışık yandığı zaman
C) Yaya için kırmızı ışık yandığı zaman

4. Trafik kuralları ile ilgili hangi seçenek yanlıştır?

- A) Trafik kuralları sadece sürücüler içindir.
B) Karşıdan karşıya geçmek için güvenli yerleri kullanmalıyız.
C) Trafik kuralları can ve mal güvenliğimiz için uymamız gereken kurallardır.

5.Ambulansın telefonunu gereksiz yere meşgul etmek hangisine neden olur?

- A) Suçlular kaçabilir.
B) Yangın ihbarları itfaiyeye ulaşamaz.
C) Acil hastalara geç kalınır.

◆Trafik kuralları sadece sürücüler içindir.

♥ Karşıdan karşıya geçmek için güvenli yerleri kullanmalıyız.

▲ Trafik kuralları can ve mal güvenliğimiz için uymamız gereken kurallardır.

6.Trafik kuralları ile ilgili yukarıdaki ifadelerden hangileri doğrudur?

A) ▲ ◆

B) ▲ ♥

C) ◆ ♥

7. VALİ

Yukardaki yönetici hakkında verilen bilgilerden hangisi doğrudur?

- A) İlçeyi yönetir.
- B) Seçimle işbaşına gelir.
- C) İli yönetir.

D Y → Valiler seçim ile iş başına gelmezler.

D Y → Kaymakamları halk seçer.

8. Yukardaki ifadelerden doğru olanlar D yanlış olanlar Y olarak işaretlendiğinde hangi seçenek doğru olur?

- | | | | |
|----|---|------|------|
| A. | D | B. Y | C. D |
| | Y | D | D |

9. BİTLİS



(İL)

AHLAT



(İLÇE)

Aşağıdaki yöneticilerden hangisi yerleşim yerlerinin yöneticilerinden değildir?

- A) Vali
- B) Muhtar
- C) Kaymakam

10. Aşağıdakilerden hangisi güvenli oyun alanlarından biri değildir?

- A) Okul bahçeleri
- B) Yolun kenarı kaldırımlar
- C) Parklar



11. Resimdeki Selçuklu Mezarlığı hangi ilimizin sınırları içerisinde yer alır?

- A) Tekirdağ
- B) Konya
- C) Bitlis

12. Aşağıdakilerden hangisi ortak kullanım alanlarımızdan değildir?

- A) Evimiz
- B) Cami
- C) Stadyum

I. Düden Şelalesi

II.Efes Antik Kenti

III.Pamukkale Travertenleri

IV.İshak Paşa Sarayı

V.Kız Kulesi

13.Yukarıda verilenlerden kaç tanesi doğal güzelliklerimize örnektir?

A) 2

B)5

C)3

15.Bulunduğumuz yerde deprem olduğunda hangi davranışı yapmalıyız?

A) Hemen merdivenlere koşmalı bulunduğumuz yeri terk etmeliyiz.

B) Yaşam üçgeni kurup depremin bitmesini beklemeliyiz.

C)155 Polis İmdatı aramalıyız

Elif okul çıkışında tanımadığını biri ile karşılaşmıştır.

Yabancı kişi: Beni annen gönderdi seni eve götüreceğim.

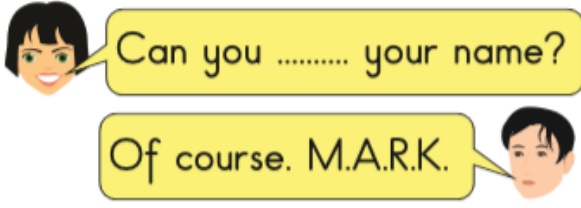
Elif : ?

14. Bu durumda Elif aşağıdakilerden hangisini yaparsa güvenliğini tehlikeye sokmuş olmaz?

A)"Hayır!"deyip uzaklaşmalı ve hemen öğretmeninden yardım istemelidir.

B) Arkadaşlarını da yanına alıp tanımadığı kişiyle gitmelidir.

C)O kişiyle eve gitmelidir.



1.Yukarıda verilen diyalogda boşluğa gelen uygun kelime aşağıdakilerden hangisidir?

- A) say
- B) play
- C) spell

Teacher: after me. "Good morning "

Students: Good morning .

2.Yukarıda verilen diyalogda boşluğa gelen uygun kelime aşağıdakilerden hangisidir ?

- A) Ready
- B) Repeat
- C) Listen

3) Yaren : How old are you ?

Yusuf: I am (15)

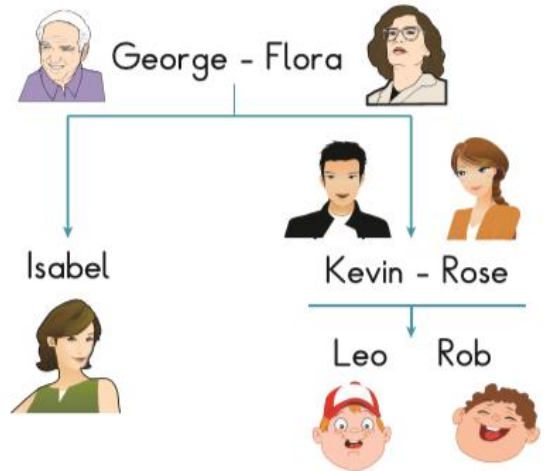
- A) Fourteen
- B) Fifteen
- C) Sixteen



4. A: Who is he ?

B: He is my

- A) Uncle
- B) Mother
- C) Sister



5.Aşağıda verilen sorudaki boşlukları tabloya bakarak cevaplandırınız.

Isabel is Leo and Rob 's

- A) mother
- B) aunt
- C) sister

3.SINIF KAZANIM PEKİŞTİRME TESTİ



shutterstock.com • 309882254



A bird can

A fish can.....

6. Yukarıda verilmiş olan ifadelere göre boşluğa gelen uygun kelimeler aşağıdaki seçeneklerden hangisidir?

- A) fly – jump
- B) dance – swim
- C) fly – swim



A rabbit is

7.Yukarıdaki cümleye göre boşluğa gelebilecek uygun ifade aşağıdakilerden hangisidir ?

- A) slow
- B) old
- C) fast

8.Aşağıdaki zıt anlamlı eşleştirmelerden hangisi yanlıştır ?

- A) tall X thin
- B) old X young
- C) big X small

9.Aşağıdaki cümleye göre seçeneklerden hangisi tarif edilen kişidir ?

My brother is tall and thin.



A)



B)



C)



Let 's watch television in the

10.Yukarıdaki cümleye göre boşluğa gelebilecek uygun ifade aşağıdakilerden hangisidir ?

- A) Bathroom
- B) Playroom
- C) Living room

My is
in the garage.



11.Yukarıdaki cümleye göre boşluğa
gelebilecek uygun ifade aşağıdakilerden
hangisidir?

- A) Garden
- B) Car
- C) Chair



12. Resimdeki kişi aşağıdakilerden hangisini
söylemiş olamaz ?

- A) I am energetic.
- B) I am bad.
- C) I am sad.



13.Yukarıdaki resime göre sorulan sorunun
cevabı aşağıdakilerden hangisidir ?

- A) Yes , I have.
- B) No, it isn't.
- C) Yes ,it is.



14.Yukarıdaki resim hangi seçenekte doğru
ifade edilmiştir ?

- A) The hospital in the bank.
- B) The bank is near the hospital.
- C) The bank is under the hospital.



15.Diyaloğu tamamlayan doğru seçenek
aşağıdakilerden hangisidir?

- A) It's on the sea.
- B) The ship is over there.
- C) You can take a taxi.